

NEHA PUBLIC SCHOOL

130/557 B BAKAR GANJ. KANPUR

HOLIDAY HOMEWORK

Session : 2024-25

**CLASS
5th (HINDI MED.)**

PASTE
YOUR
PHOTO

NAME :



Learning is fun!

याद करने के लिए गृह-कार्य

- English Reader-** Lesson- 1, 2, 3 All Exercises.
- English Grammar-** Lesson- 1, 2 All Exercises.
- Hindi Reader-** पाठ 1 से 2 तक पूरा अभ्यास कार्य।
- Hindi Grammar-** पाठ 1 से 2 तक पूरा अभ्यास कार्य।
- Math -** इकाई- 1, 2 का पूरा अभ्यास कार्य।
तथा 2 से 20 तक पहाड़े।
- Science-** पाठ 1 से 2 तक पूरा अभ्यास कार्य।
- Project Work-** एक फुल साईज चार्ट पेपर में कोई एक चित्र बनाइए-
1- की-बोर्ड 2- श्वसन तंत्र



1- Answer the following questions-

- a)- How will our courage appear?
- b)- What promise did the king ask the farmer to make?
- c)- Write the definition of Subject & Predicate?
- d)- Write the definition of Noun with example?

2- Write the meaning-


Succeed, Riddle, Lend, Worship, Symbol

3- Fill in the blanks-

- a)- The more young set a big idol.
- b)- An colour the idol.
- c)- The farmer was a man.
- d)- The farmer saw the face of king on

4- Arrange the words in proper order to make sentences-

- a)- a magician lived there in Mumbai. =
- b)- keep us warm woolen clothes. =
- c)- the grass graze the cattle. =



1- निम्न प्रश्नों के उत्तर दो-

- लोग बच्चों को क्या-क्या सिखाना चाहते हैं ?
- ओलंपिक खेलों का आरंभ कब और कहाँ हुआ ?
- पद किसे कहते हैं ?
- स्वर किसे कहते हैं ?

2- निम्न के शब्दार्थ लिखो-

विनम्र, कीर्ति, प्रदर्शन, शरणार्थी, विलय

3- दिए गए शब्दों को अपने वाक्यों में प्रयोग करो-

- अधिकार -
- निराश -
- शत्रु -
- संकट -

4- रिक्त स्थानों की पूर्ति करो-

- भाषा के खंड होते हैं।
- अंग्रेजी लिपि में लिखी जाती है।
- का उच्चारण स्वतंत्र रूप से होता है।
- य,र,व,ल व्यंजन है।



1- सभी प्रश्नों को हल करो-

- ‘पचास लाख तेईस हजार नौ सौ’ को अंकों में लिखिए।
- 43,875 में प्रत्येक अंक का स्थानीय मान लिखिए।
- 8,84,73,400 को शब्दों में लिखो।

2- सभी प्रश्नों को हल करो -

- 900000, 700000, 600000, 400000, 300000 निम्न संख्याओं को अवरोही क्रम में लिखिए।
- एक क्षेत्र में मतदाताओं की कुल संख्या 790350 थी यदि इनमें पुरुषों की संख्या 488628 हो तो स्त्रियों की संख्या ज्ञात कीजिए ?
- निम्न भिन्नों को घटाइए- i- $6/7 - 1/7$ ii- $11/12 - 5/9$

3- सभी प्रश्नों को हल करो -

- गुणनफल ज्ञात करो- i- 1784×685 ii- 4835×100
- $60000000 + 4000000 + 200000 + 9000 + 80 + 7$ को संक्षिप्त रूप में लिखिए।
- निम्न अंकों का प्रयोग करके सबसे छोटी तथा सबसे बड़ी संख्या लिखिए- 2,3,5,6,7



1- सभी प्रश्नों को हल करो-

- पौधों और जंतुओं की प्रतिक्रिया में क्या अंतर है ?
- पुनर्जनन किसे कहते हैं ?
- पेड़-पौधों का हमारे जीवन में क्या महत्व है ?
- एक बीज की आंतरिक संरचना का वर्णन कीजिए ?

2- उचित मिलान करे-

- | | |
|------------|---------------|
| a)- मनुष्य | पंख |
| b)- मछली | पैर |
| c)- पक्षी | फिन |
| d)- साँप | झिल्लीदार पैर |
| e)- बतख | शलक |

3- सही अथवा गलत का चिन्ह लगाओ-

- भोजन के अपघटन से सजीवों को ऊर्जा मिलती है। []
- पौधों द्वारा भोजन बनाने की क्रिया वाष्पोत्सर्जन कहलाती है। []
- आक्सीजन वायु को जलाकर ऊर्जा मुक्त करती है। []
- मुर्गा तथा बतख बिल्कुल नहीं उड़ पाते हैं। []


4- मेंढक का चित्र बनाओ-













www.kindergartenworksheets.net

Beach Color by Number Worksheet

Name _____



Color Key

1  brown	2  green	3  white
4  blue	5  gray	6  orange
7  light brown	8  red	9  light blue

WRITE THE PICTURE'S NUMBER IN THE BOX



1. sun

2. hat

3. bucket

4. ice cream

5. surfboard

6. sunglasses

7. ice

8. sand castle

9. umbrella



10. ball

11. beach

12. wave

13. sand



14. towel



COLOUR THE GIVEN PICTURE AND SPOT THE 10 DIFFERENCES AND MAKE CIRCLE





PLANT A TREE ACTIVITY WITH PARENTS

- 1.** Plant a small tree in a pot or a ground near your home and observe the growth of plant daily.
अपने घर में एक गमले में या आस-पास ज़मीन में एक छोटा पेड़ लगाइए और प्रतिदिन पौधे की वृद्धि का निरीक्षण करें।)
- 2.** Click pictures of the plant daily and paste some pictures here.
पौधे की रोज़ाना फोटो खींचें और कुछ फोटो यहाँ चिपकाएँ।



MAKE A NEST ACTIVITY WITH PARENTS

1. Make a nest on the rooftop of your house and keep some food and water for birds.
अपने घर की छत पर एक घोंसला बनाएँ और चिड़िया के लिए दाने और पानी रखें।
2. Daily observe the nest and click pictures of the nest with bird and paste some pictures here.
प्रतिदिन घोंसले का निरीक्षण करें और चिड़िया के साथ फोटो खींचकर कुछ फोटो यहाँ चिपकाएँ।




ABOUT JOURNEY WITH FAMILY

1. Visit a new place during summer holidays with your parents.
गर्मी की छुट्टी में अपने माता-पिता के साथ कहीं घूमने जाएँ।
2. Click pictures of the places you visit and paste some pictures here.
जहाँ-जहाँ आप घूमें वहाँ की अपनी फोटो खींचें और कुछ फोटो यहाँ चिपकाएँ।



BINDI PASTING ACTIVITY



Instructions - Let's do tracing and paste bindis in the circles.

Objective - To enhance fine motor skills of the child.

IMPORTANT POINTS:

- The School Will Re-Open Monday, 1st July 2024 As Per Summer Timings Of The School.

SCHOOL TIMING:- (HINDI MEDIUM)

N.A. TO 4 CLASS – 12:00 PM TO 4:30 PM

5 TO 12 CLASS – 7:30 AM TO 12:00 PM

- Let The Little One Do All The Homework Under Your Supervision.
- Kindly Submit The Holiday Homework On The Re-Opening Day Of The School.

We Hope You Will Enjoy These Activities And Come Back To School With A New Zeal And Enthusiasm.

HAVE A HAPPY & CHEERFUL VACATION!

MR. C.A. ANSARI
MANAGER

MR. SHAHNAWAZ ANSARI
PRINCIPAL (J.H.)

MR. ISHAN ANSARI
PRINCIPAL (PRIMARY)

